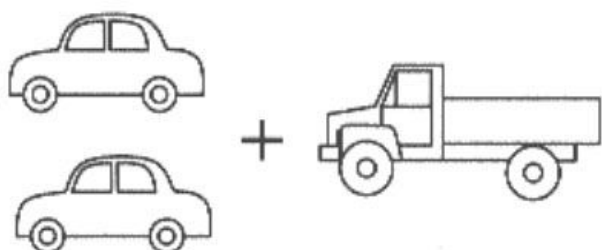
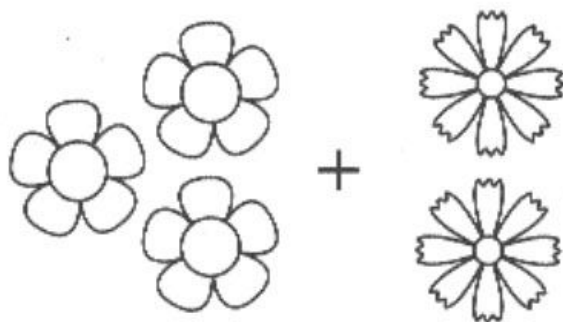


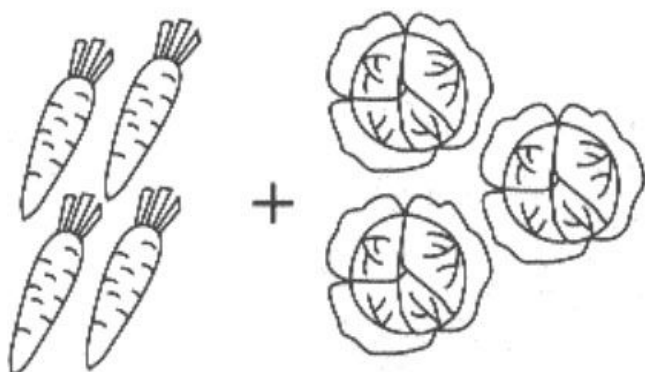
Сосчитай предметы и реши примеры. Запиши ответы.



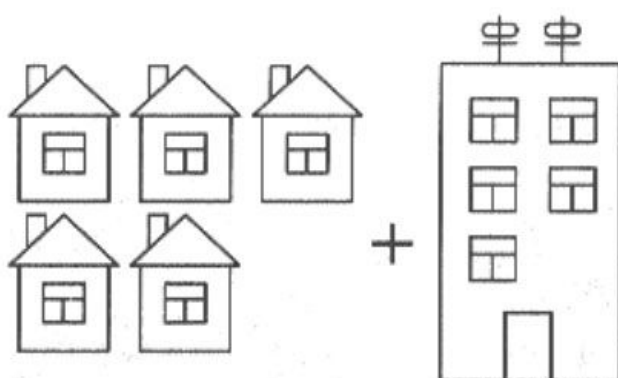
2	+	1	=	
---	---	---	---	--



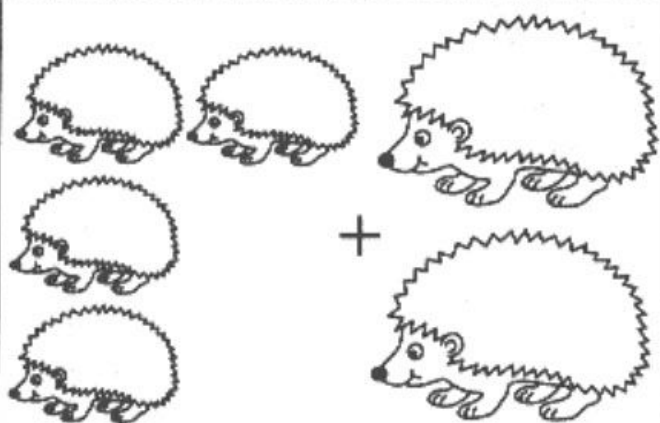
3	+	2	=	
---	---	---	---	--



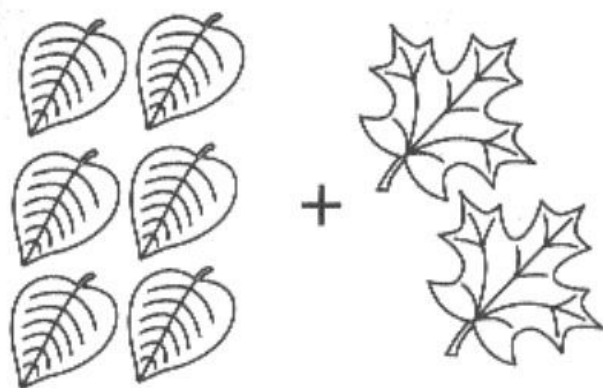
4	+	3	=	
---	---	---	---	--



5	+	1	=	
---	---	---	---	--

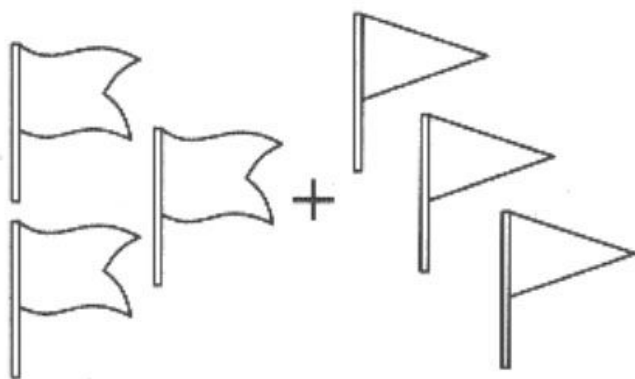


4	+	2	=	
---	---	---	---	--

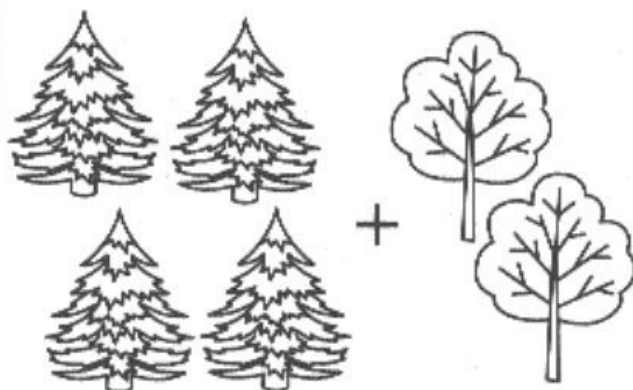


6	+	2	=	
---	---	---	---	--


Реши примеры, запиши ответы.



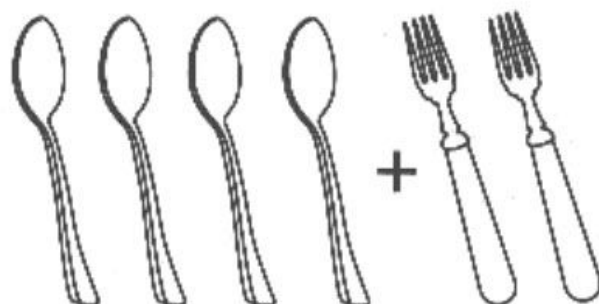
$$\boxed{3} + \boxed{3} = \boxed{}$$



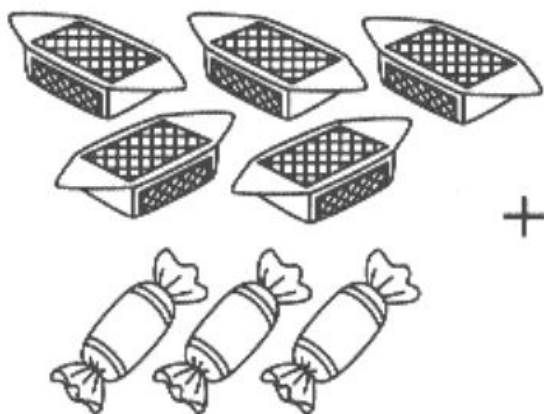
$$\boxed{4} + \boxed{2} = \boxed{}$$




$$\boxed{5} + \boxed{4} = \boxed{}$$



$$\boxed{4} + \boxed{2} = \boxed{}$$



$$\boxed{5} + \boxed{3} = \boxed{}$$




$$\boxed{5} + \boxed{5} = \boxed{}$$


Вставь пропущенные числа и реши примеры.




	+		=	
--	---	--	---	--



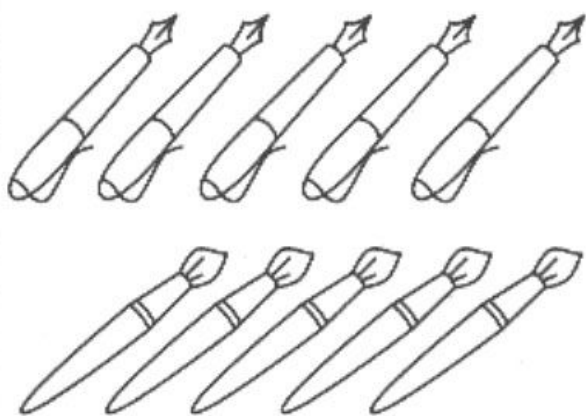
	+		=	
--	---	--	---	--



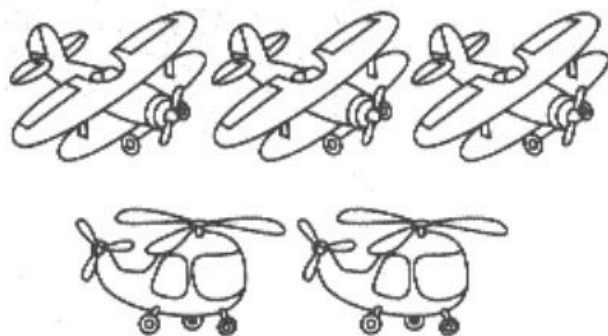
	+		=	
--	---	--	---	--



	+		=	
--	---	--	---	--




	+		=	
--	---	--	---	--



	+		=	
--	---	--	---	--

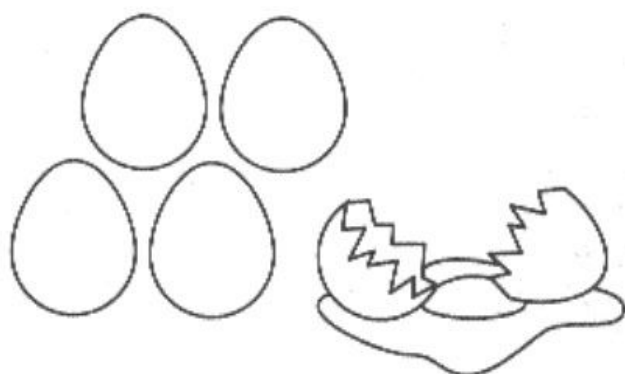
Рассмотри картинки. Сосчитай предметы и реши примеры на вычитание.




$$3 - 1 = \square$$



$$5 - 2 = \square$$



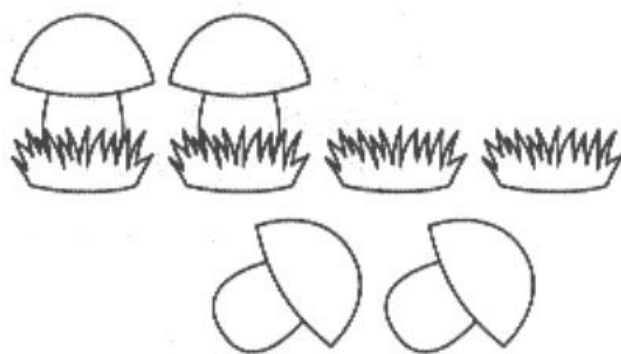
$$5 - 1 = \square$$



$$6 - 3 = \square$$

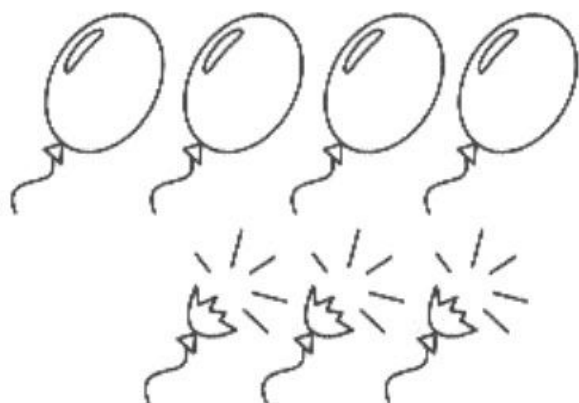


$$4 - 3 = \square$$

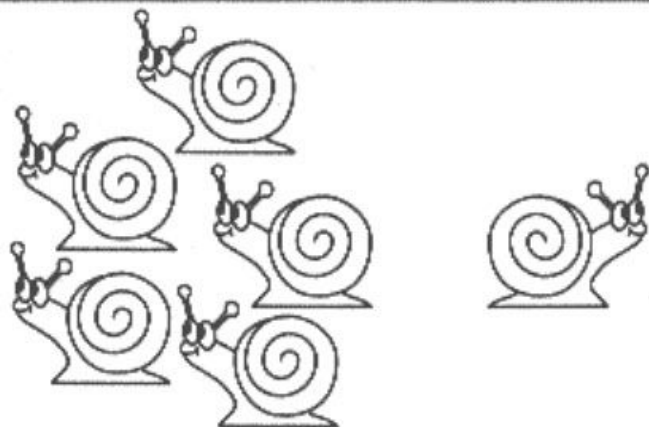


$$4 - 2 = \square$$


Реши примеры на вычитание и впиши полученные ответы.



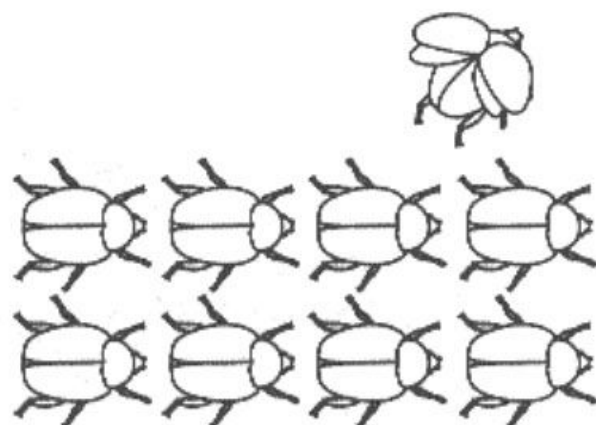
$$7 - 3 = \square$$




$$6 - 1 = \square$$



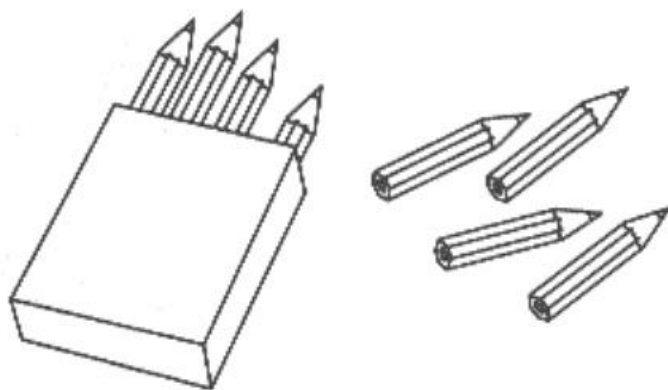
$$8 - 2 = \square$$



$$9 - 1 = \square$$

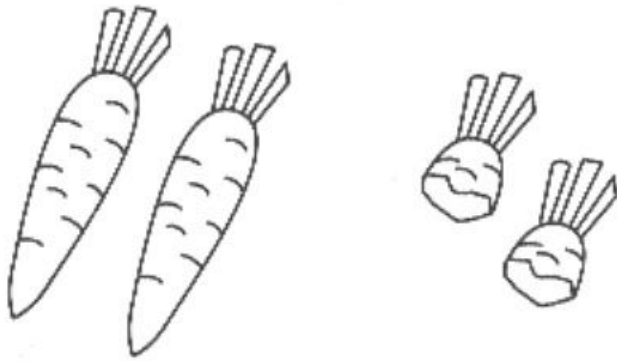


$$6 - 2 = \square$$



$$8 - 4 = \square$$

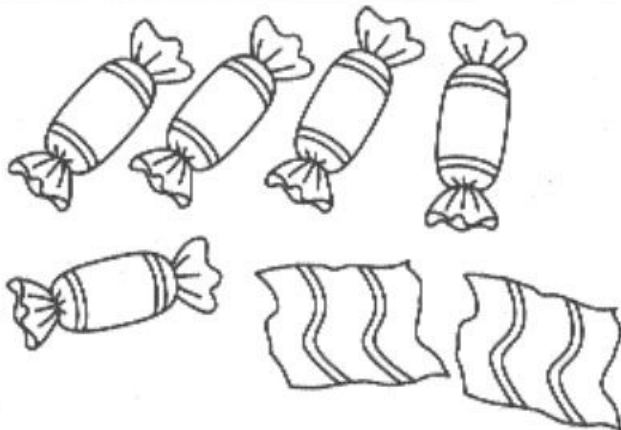
Впиши нужные цифры в клетки и реши примеры.



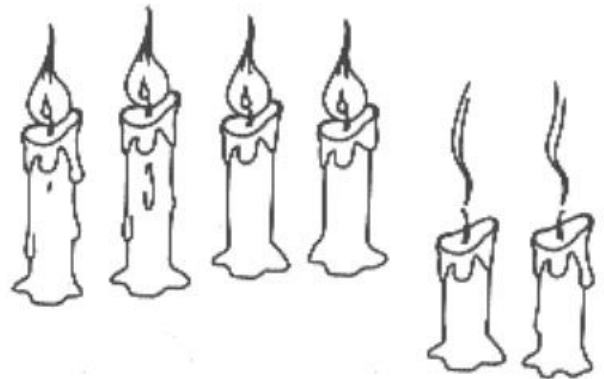
	-		=	
--	---	--	---	--



	-		=	
--	---	--	---	--



	-		=	
--	---	--	---	--



	-		=	
--	---	--	---	--



	-		=	
--	---	--	---	--

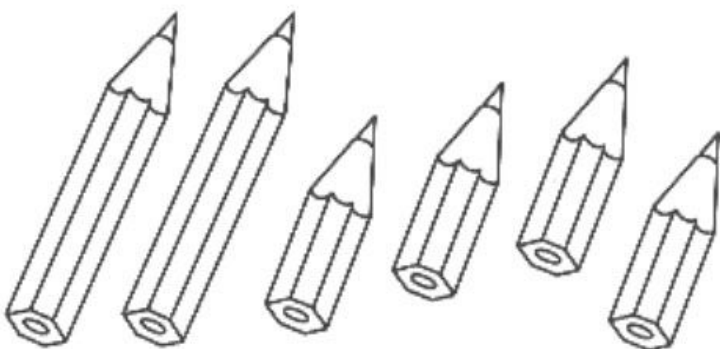


	-		=	
--	---	--	---	--

Реши задачи на сложение.

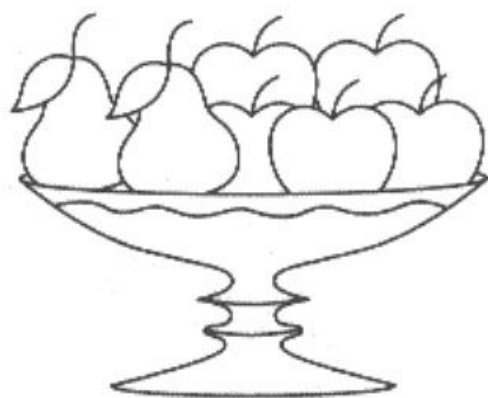
У Кости было два длинных и четыре коротких карандаша. Сколько всего карандашей у Кости?

2	+	4	=	
---	---	---	---	--



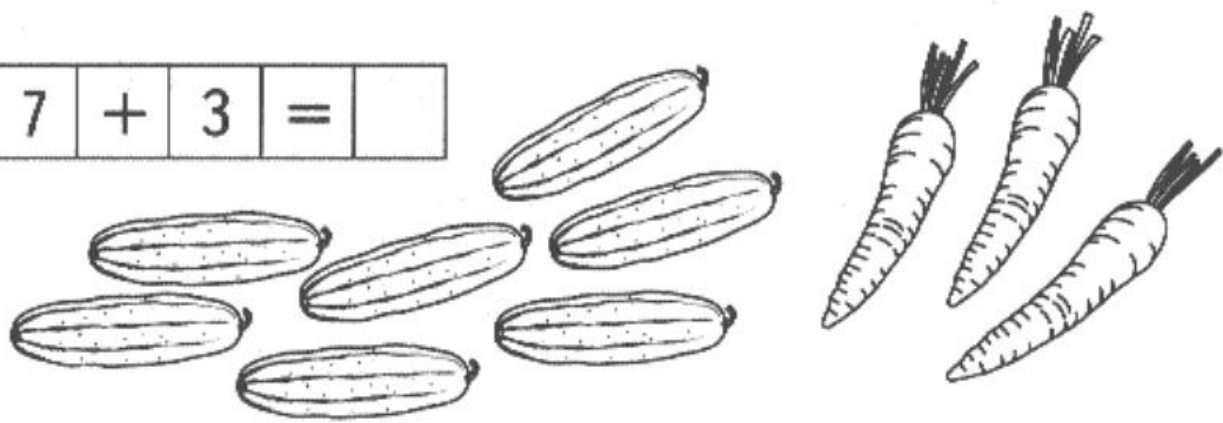
В вазе лежало пять яблок и две груши. Сколько всего фруктов лежало в вазе?

5	+	2	=	
---	---	---	---	--



Оля сорвала семь огурцов, а Ирина - три морковки. Сколько всего овощей у девочек?

7	+	3	=	
---	---	---	---	--



Реши задачи на сложение.


В гости к Лене пришли три мальчика и две девочки. Сколько всего гостей у Лены?

3	+	2	=	
---	---	---	---	--




На ветке сидели четыре синицы. К ним прилетели ещё три. Сколько всего синиц стало на ветке?

4	+	3	=	
---	---	---	---	--



В аквариуме плавали пять рыбок, к ним пустили ещё двух. Сколько рыбок стало в аквариуме?

5	+	2	=	
---	---	---	---	--




Реши задачи на вычитание и запиши решение.

У Лены было пять матрёшек. Две матрёшки она подарила Оле. Сколько матрёшек у неё осталось?




--	--	--	--	--

В гараже стояли шесть машин. Четыре уехали. Сколько машин осталось?



--	--	--	--	--

На лугу паслись семь коров. Две ушли домой. Сколько коров осталось на лугу?

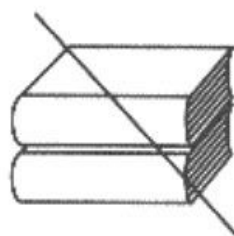
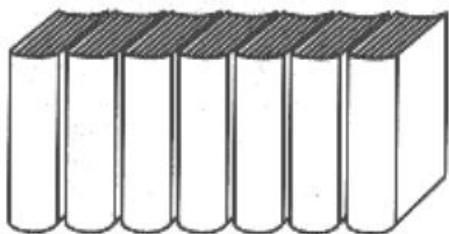


Реши задачи на вычитание и запиши решения.
На яблоне росло восемь яблок. Пять из них сорвали. Сколько осталось?

--	--	--	--	--



На полке стояло девять книг. Рома взял две книги. Сколько книг осталось на полке?



--	--	--	--	--

На пристани стояло шесть лодок. Четыре из них уплыли. Сколько лодок осталось?




--	--	--	--	--





Придумай сам задачи по картинкам и запиши решения.




--	--	--	--	--




--	--	--	--	--




--	--	--	--	--




Придумай сам задачи по картинкам и запиши решения.



--	--	--	--	--



--	--	--	--	--



--	--	--	--	--

Рассмотри картинки. Впиши числа и реши задачи.

Саша поймал шесть рыбок, а Дима на три больше. Сколько рыбок поймал Дима?

--	--	--	--	--



Настя прочитала шесть сказок, а Марина на одну больше. Сколько сказок прочитала Марина?

--	--	--	--	--



Коля нарисовал две картинки, а Володя на семь больше. Сколько картинок нарисовал Володя?

--	--	--	--	--



Рассмотри картинки. Впиши числа и реши задачи.

Девочек -

Мальчиков на 2 больше.

Сколько мальчиков?

--	--	--	--	--




Грузовых машин -

Легковых на 1 больше.

Сколько легковых машин?

--	--	--	--	--




Матрешек -

Неваляшек на 3 больше.

Сколько неваляшек?

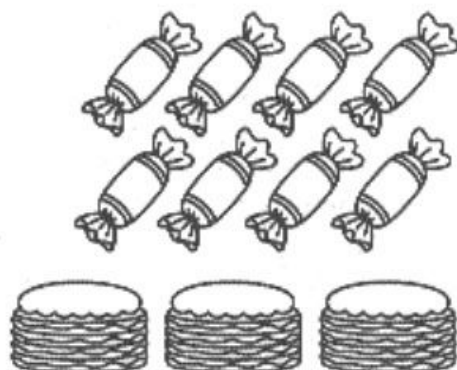
--	--	--	--	--



Рассмотри картинки. Впиши числа и реши задачи.


Конфет - штук.
Пирожных на 5 меньше.
Сколько пирожных?

--	--	--	--	--




Карасей - штук.
Ершей на 3 меньше.
Сколько ершей?

--	--	--	--	--



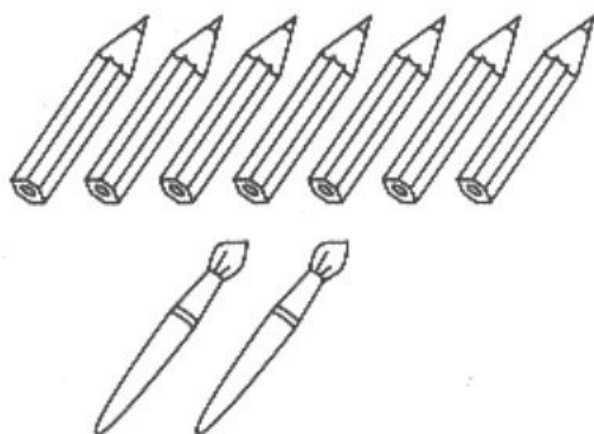
Кошек -
Собак на 6 меньше.
Сколько собак?

--	--	--	--	--



Карандашей -
Кисточек на 5 меньше.
Сколько кисточек?

--	--	--	--	--



Рассмотри картинки. Впиши числа и реши задачи.

Мячей - штук.



Скакалок на 3 меньше.



Сколько скакалок?

--	--	--	--	--

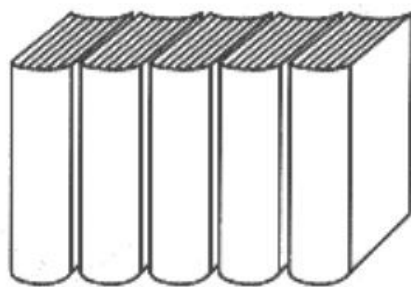


Книг - штук.

Тетрадей на 2 меньше.

Сколько тетрадей?

--	--	--	--	--






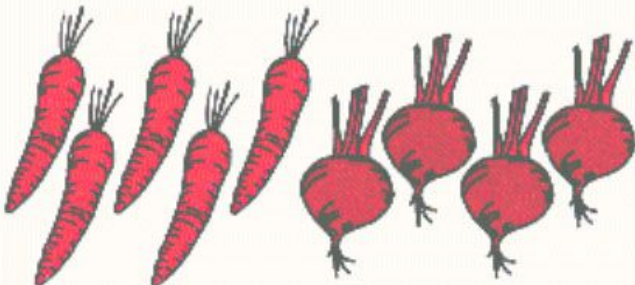



Тюльпанов - штук.

Гвоздик на 4 меньше.

Сколько гвоздик?

--	--	--	--	--





$1+2$

$10-1$

$3+2$

$8-2$

$4+3$

$7-3$

$5+4$

$6-4$

$6+2$

$5-3$

$7+3$

$2-1$